

TRƯỜNG TIỂU HỌC NGUYỄN THỊ BẢY

Toán - Lớp 5C


GV: Doãn Thị Hạnh Trinh




Thứ sáu ngày 15 tháng 11 năm 2024
Toán

KHỞI ĐỘNG

Trò chơi



Ô cửa bí mật



Số $5,8 \times 10$ có kết quả là:

A. 0,58

B. 580

C. 0,058

D. 58



Số $4,5 \times 0,1$ có kết quả là:

- A. 0,45
- B. 45
- C. 450
- D. 0,045



Số $19,25 : 0,01$ có kết quả là:

A. 1,925

B. 192,5

C. 1925

D. 0,1925



Kết quả của phép tính $18 + 20,06$ là:

- A. 38,06
- B. 20,78
- C. 22,4
- D. 20,24



Thứ sáu ngày 15 tháng 11 năm 2024

Toán

BÀI 24: LUYỆN TẬP CHUNG (tiết 1)

Luyện tập

Bài 1: Tính.

$$4,98 + 15,7$$

$$52 - 4,91$$

$$0,73 \times 6,5$$

$$104,89 : 8,5$$

$$4,98 + 15,7 = 20,68$$

$$0,73 \times 6,5 = 4,745$$

$$52 - 4,91 = 47,09$$

$$104,89 : 8,5 = 12,34$$

Thứ sáu ngày 15 tháng 11 năm 2024

Toán

BÀI 24: LUYỆN TẬP CHUNG (tiết 1)

Luyện tập

Bài 2: Tính nhẩm.

$3,14 \times 0,1$

$3,14 \times 100$

$31,4 : 10$

$314 : 0,001$

Thứ sáu ngày 15 tháng 11 năm 2024

Toán

BÀI 24: LUYỆN TẬP CHUNG (tiết 1)

Luyện tập

Bài 2: Tính nhẩm.

$$3,14 \times 0,1 = 0,314$$

$$3,14 \times 100 = 314$$

$$31,4 : 10 = 3,14$$

$$314 : 0,001 = 314\ 000$$

Thứ sáu ngày 15 tháng 11 năm 2024

Toán

BÀI 24: LUYỆN TẬP CHUNG (tiết 1)

Luyện tập

Bài 3: > ; < ; = ?

a) $2,5 \times 6,1$ $6,1 \times 2,5$

b) $(15 \times 6) \times 0,25$ $15 \times (6 \times 0,25)$

c) $(5,3 + 4,7) \times 0,1$ $5,3 \times 0,1 + 4,7 \times 0,1$

$$\text{a) } 2,5 \times 6,1 \boxed{=} 6,1 \times 2,5$$

Tính chất giao hoán: Khi đổi chỗ các thừa số trong một tích thì tích không thay đổi.

$$\mathbf{a \times b = b \times a}$$

$$b) (15 \times 6) \times 0,25 = 15 \times (6 \times 0,25)$$

Tính chất kết hợp : Khi nhân tích của hai số với số thứ ba, ta có thể nhân số thứ nhất với tích của số thứ hai và số thứ ba.

$$(a \times b) \times c = a \times (b \times c)$$

$$C) (5,3 + 4,7) \times 0,1 = 5,3 \times 0,1 + 4,7 \times 0,1$$

Tính chất phân phối của phép nhân đối với phép cộng:

Khi nhân một tổng với một số, ta có thể nhân từng số hạng của tổng với số đó rồi cộng kết quả lại với nhau.

$$(a + b) \times c = a \times c + b \times c$$

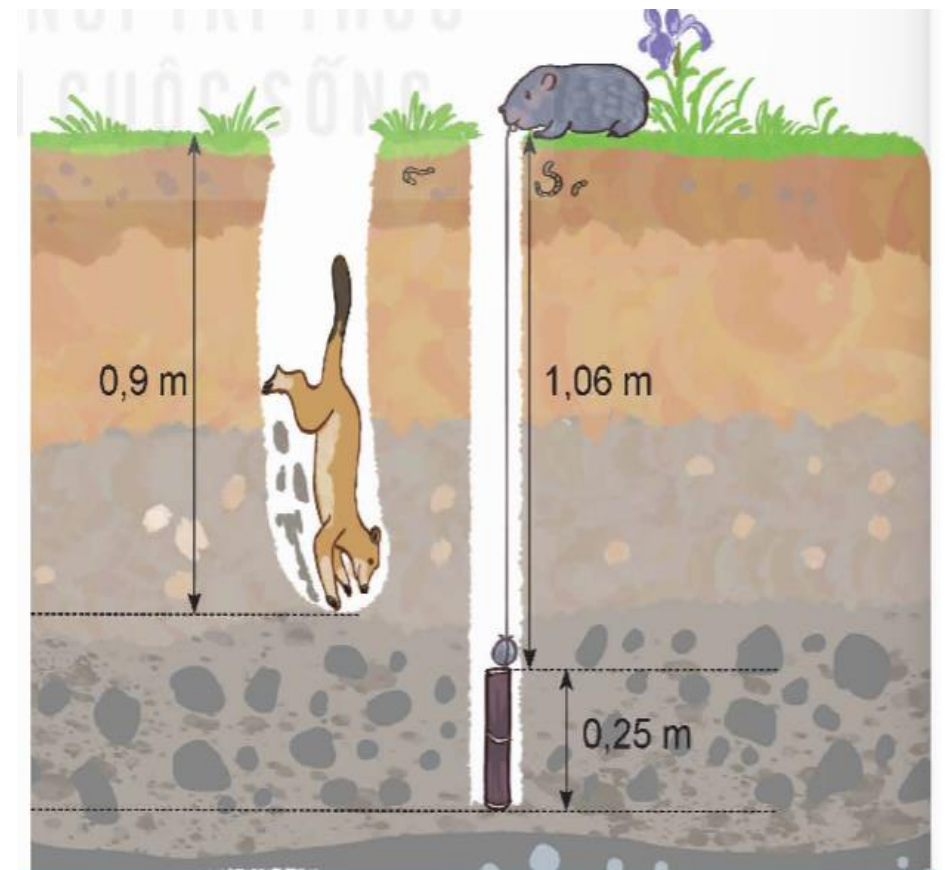
Thứ sáu ngày 15 tháng 11 năm 2024

Toán

BÀI 24: LUYỆN TẬP CHUNG (tiết 1)

Luyện tập

Bài 4: Dúi làm rơi khúc mía xuống một cái lỗ. Chồn đào một cái hố bên cạnh để lấy khúc mía cho dúi. Hỏi chồn còn phải đào sâu thêm bao nhiêu mét nữa để cái hố sâu đúng bằng cái lỗ ?



Bài 4: Dúi làm rơi khúc mía xuống một cái lỗ. Chồn đào một cái hố bên cạnh để lấy khúc mía cho dúi. Hỏi chồn còn phải đào sâu thêm bao nhiêu mét nữa để cái hố sâu đúng bằng cái lỗ ?

Bài giải

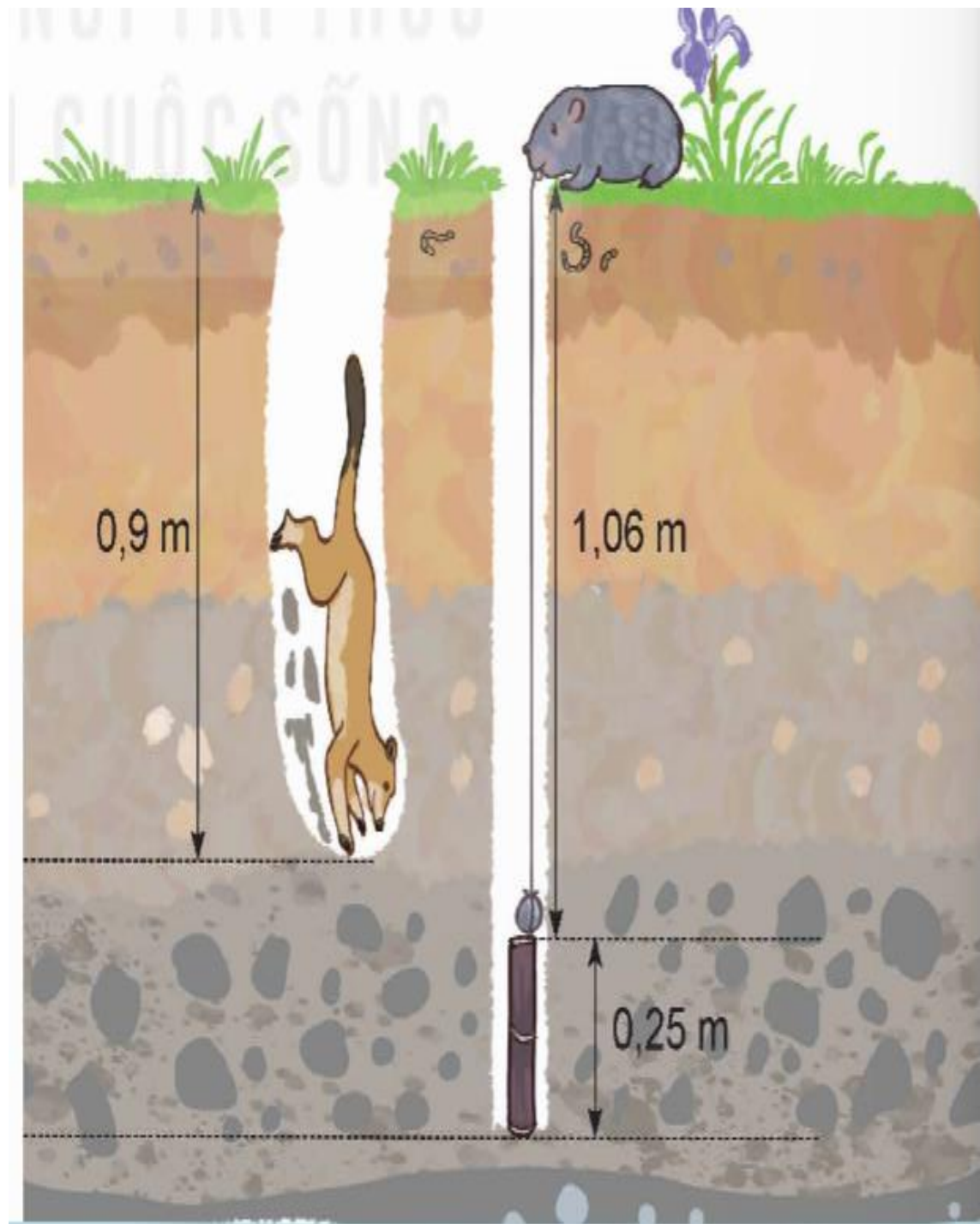
Cái lỗ sâu là :

$$1,06 + 0,25 = 1,31 \text{ (m)}$$

Để hố sâu đúng bằng cái lỗ, chồn còn phải đào sâu thêm số mét nữa là:

$$1,31 - 0,9 = 0,41 \text{ (m)}$$

Đáp số: 0,41m



Vận dụng

Dùng thước có vạch chia xăng-ti-mét đo chiều dài và chiều rộng của quyển sách Toán lớp 5 tập 1, cho biết:

- a) Chiều dài, chiều rộng quyển sách đó bằng bao nhiêu đề-xi-mét ?
- b) Tính chu vi của quyển sách đó.



**Chào tạm biệt
các em!**